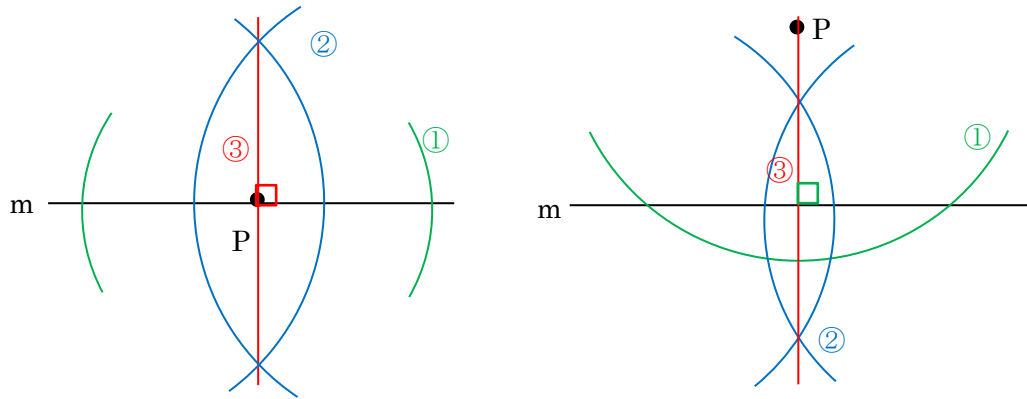


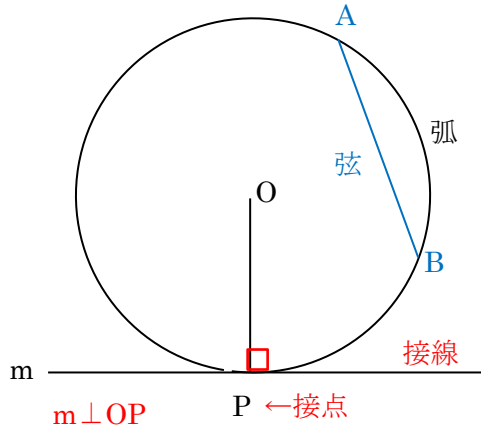
第100回 点の集まりと作図 解説編2

板書

垂線



円

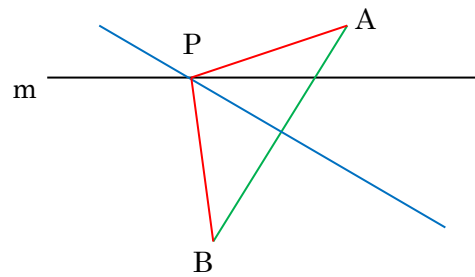


中心から等距離の
点の集まり

直線 m 上にあつて

$AP=BP$ となる点 P

点 P は、線分 AB の
垂直二等分線上にある！



点 A, B, C から等距離の点 P

