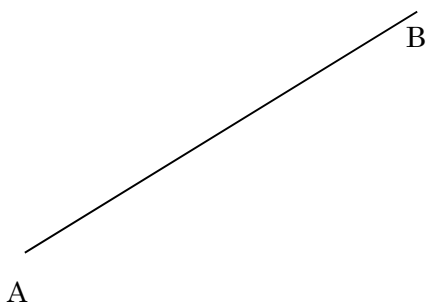


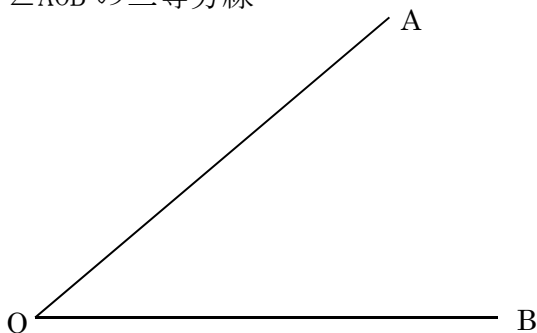
第101回 点の集まりと作図1 問題編

問題

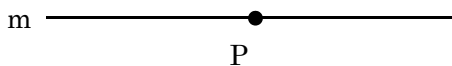
① 線分 AB の垂直二等分線




②  $\angle AOB$  の二等分線



③ 直線 m 上の点 P おける垂線



④ 直線 m 上にない点 P から  
直線 m への垂線



⑤ 点Pを通る接線

